

1. Fülle richtig aus:

Ein Tag (Tag und Nacht) hat Stunden.

Eine Stunde hat Minuten.






Eine halbe Stunde hat Minuten.

Eine Viertelstunde hat Minuten.

 Eine Minute hat Sekunden.

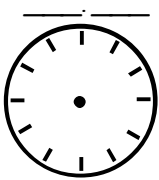
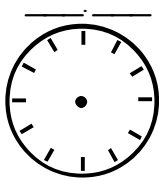
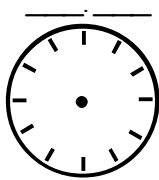
4 P. +1

2. Zeichne die Zeiger (Stundenzeiger rot, Minutenzeiger blau):

		
<i>Viertel nach 2 Uhr</i>	<i>halb 6 Uhr</i>	<i>Viertel vor 3 Uhr</i>
		
<i>halb 11 Uhr</i>	<i>Viertel vor 8 Uhr</i>	<i>21 Uhr</i>







6 F

3. Zeichne die Zeiger (Stundenzeiger rot, Minutenzeiger blau) und schreibe die zweite Zeit dazu:

<i>7:15</i>	<i>23:45</i>	<i>0:30</i>
		

6 F

4. Schreibe die Zeit mit Worten auf (Uhr, Viertel nach, halb, Viertel vor):

6 P.