







Welche Malrechnungen sind hier gezeichnet?




Name:

Schreibe beide Malrechnungen auf.

Schreibe auf die dritte Linie jeweils eine der beiden Plusrechnungen.







Umgekehrt kannst du es auch?

Zeichne die Rechnungen und schreibe die fehlenden Rechnungen dazu (wie auf der Vorderseite).

$3 \cdot 8 =$

$7 \cdot 6 =$

$2 \cdot 5 =$

$6 \cdot 8 =$

$7 \cdot 3 =$

$8 \cdot 5 =$

$3 \cdot 6 =$

$7 \cdot 7 =$

$5 \cdot 9 =$
