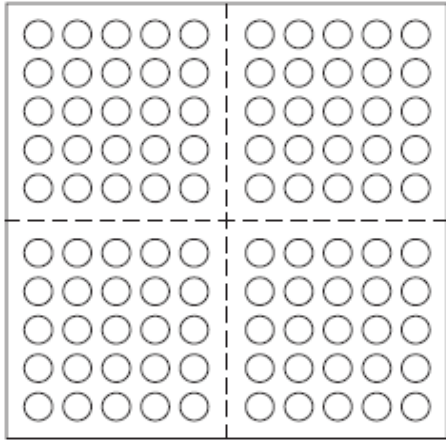


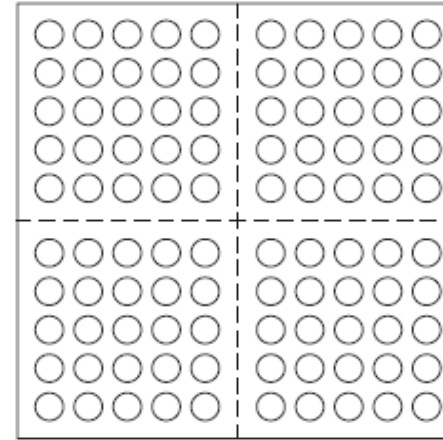
100 teilen

Name:



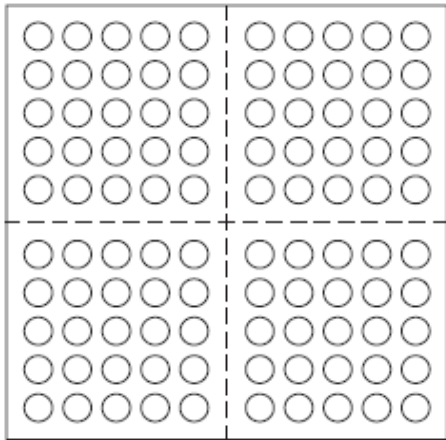
100 in vier Teile.
Übermale in vier Farben.

$$100 = _ \text{ mal } _$$



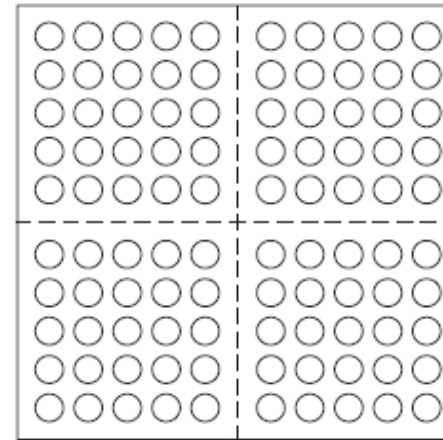
100 in fünf Teile.
Übermale in fünf Farben.

$$100 = _ \text{ mal } _$$




100 in zwei Teile.
Übermale in zwei Farben.

$$100 = _ \text{ mal } _$$



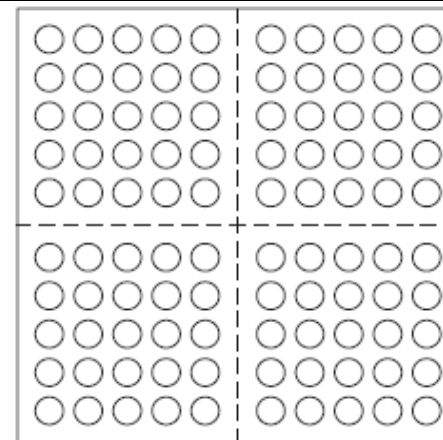
100 in zwanzig Teile.
Übermale farbig.

$$100 = _ \text{ mal } _$$



100 in zehn Teile.
Übermale in zehn Farben.

$$100 = _ \text{ mal } _$$



100 in $_$ Teile.
Übermale in $_$ Farben.

$$100 = _ \text{ mal } _$$

Teile 100 Fr. in zwei Teile.



100 Fr. = ___ mal _____

Teile 100 Fr. in zehn Teile. Welche Noten sind geeignet?

100 Fr. = ___ mal _____

Teile 1 Fr. in zwei Teile.



1 Fr. = ___ mal _____

Teile 1 Fr. in fünf Teile. Welche Münzen ist geeignet?

Teile 1 Fr. in zehn Teile.

Teile ___ Fr. in ___ Teile.

Teile den verkleinerten Meter in verschiedene Teile:

