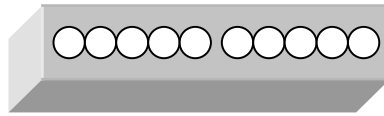
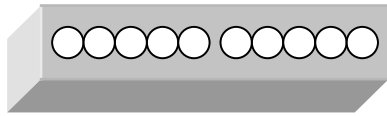


# Auf dem Bahnhof

In jedem Wagen haben aber nur 10 Personen Platz!

**7** Personen kommen mit dem Zug gefahren.

6 Personen wollen auch noch mitfahren.



Wie viele Personen können noch vorne einsteigen? \_\_\_ Personen

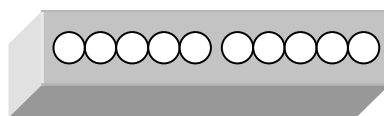
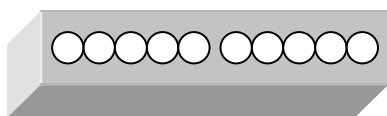
Wie viele Personen müssen hinten einsteigen? \_\_\_ Personen

Rechnung: **7** + \_\_\_ + \_\_\_ = \_\_\_

In jedem Wagen haben aber nur 10 Personen Platz!

**5** Personen kommen mit dem Zug gefahren.

9 Personen wollen auch noch mitfahren.



Wie viele Personen können noch vorne einsteigen? \_\_\_ Personen

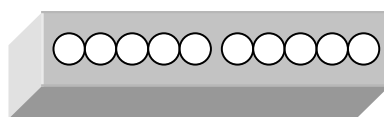
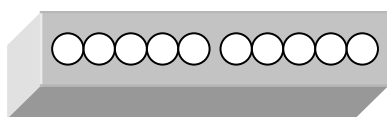
Wie viele Personen müssen hinten einsteigen? \_\_\_ Personen

Rechnung: **5** + \_\_\_ + \_\_\_ = \_\_\_

In jedem Wagen haben aber nur 10 Personen Platz!

**4** Personen kommen mit dem Zug gefahren.

8 Personen wollen auch noch mitfahren.



Wie viele Personen können noch vorne einsteigen? \_\_\_ Personen

Wie viele Personen müssen hinten einsteigen? \_\_\_ Personen

Rechnung: **4** + \_\_\_ + \_\_\_ = \_\_\_